

2023年河北省张家口市宣化区八年级(上)期末地理试卷

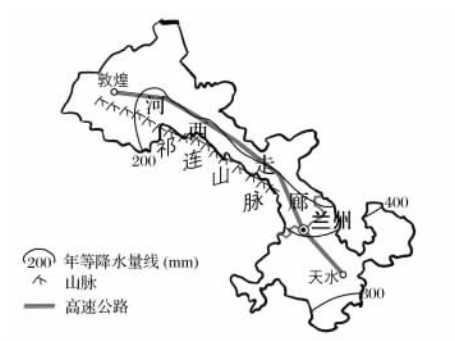
(总分60分 考试时间45分钟)

一、单项选择题(每小题2分,共40分)

- 下列关于我国疆域的说法,不正确的是 ()
 - A. 位于北半球、东半球
 - B. 是海陆兼备的大国
 - C. 陆地领土面积约960万平方千米
 - D. 与日本隔南海相望
- 当黑龙江还是冰天雪地时,海南岛却是一派农忙景象,主要原因是两地 ()
 - A. 纬度差异大
 - B. 距海远近不同
 - C. 地形差异大
 - D. 生产方式不同
- 2022年2月6日,女足亚洲杯决赛中国女足对阵韩国女足,潮汕姑娘肖裕仪于补时第3分钟打进绝杀球,中国女足最终以3:2逆转击败韩国女足,夺得亚洲杯冠军。潮汕市所在的省级行政区域简称和省级行政中心分别是 ()
 - A. 桂—南宁
 - B. 粤—广州
 - C. 吉—长春
 - D. 藏—拉萨
- 第七次全国人口普查从2020年11月1日到12月10日进行入户登记。下列关于人口普查的说法,正确的是 ()
 - A. 提高人口素养
 - B. 调控第三产业
 - C. 有利于完善人口政策
 - D. 提高人口健康状态
- 第十二届全国少数民族传统体育运动会拟于2023年11月在海南举办。海南热带雨林和黎族传统聚落是海南岛黎族长期定居、创造独特岛屿性部族文化的场所。下列民族风情图片属于黎族的是 ()



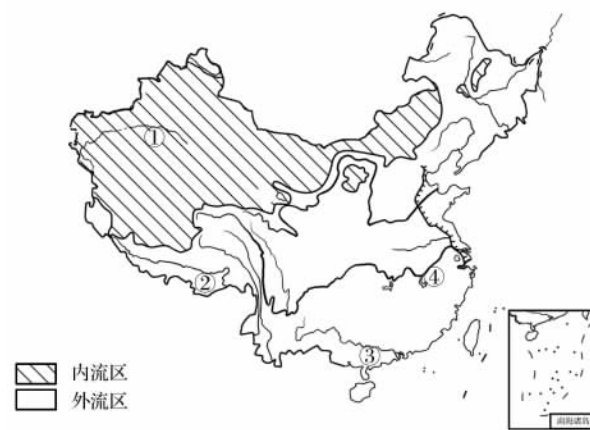
祁连山区的农民每年夏季种植胡萝卜、娃娃菜等喜温凉的“高原夏菜”,这些“高原夏菜”被大量运到2000千米以外的杭州、上海等地。右图为甘肃省年等降水量分布图。读图,完成6—8题。



- 下列关于祁连山脉的叙述正确的是 ()
 - A. 山脉呈西北—东南走向
 - B. 亚热带和暖温带的分界线
 - C. 外流区与内流区的分界线
 - D. 北侧山麓海拔总体高于南侧
- 祁连山区主要位于我国干湿地区中的 ()
 - A. 湿润区
 - B. 半湿润区
 - C. 干旱区
 - D. 半干旱区
- 与杭州、上海相比,祁连山区种植“高原夏菜”的优势条件是 ()

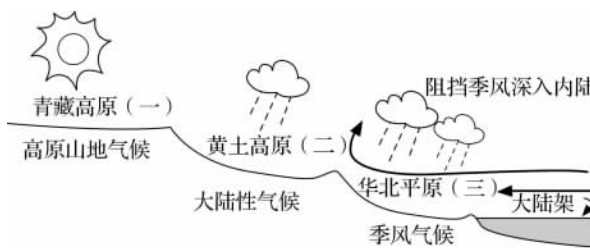
- A. 夏季温凉
- B. 地势低平
- C. 热量充足
- D. 降水充沛

下图为我国主要河流分布图。读图,完成9—10题。



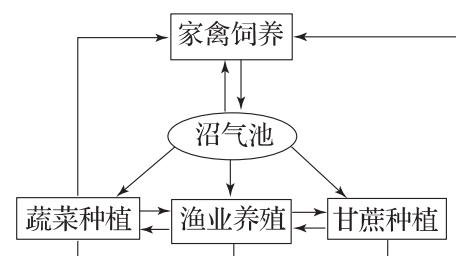
- 图中表示我国最大内流河塔里木河的是 ()
 - A. ①
 - B. ②
 - C. ③
 - D. ④
- 我国外流河的主要补给形式是 ()
 - A. 地下水
 - B. 湖泊水
 - C. 大气降水
 - D. 冰雪融水

如图为某同学在地理学习过程中绘制的一幅示意图。读图,完成11—12题。



- 该示意图的主题是 ()
 - A. 地形与植被的关系
 - B. 地形对气候的影响
 - C. 冬季风行进的方向
 - D. 内陆地区资源分布
- 由图可以推断出,我国 ()
 - ①温带大陆性气候分布最广
 - ②东西部地区降水差异显著
 - ③河流的流向自西向东
 - ④青藏高原日照充足、年均温高
 - A. ①②
 - B. ②③
 - C. ①④
 - D. ③④

下图为某地区循环农业模式示意图。读图,完成13—14题。



- 下列地区最适合发展这种循环农业模式的地区是 ()
 - A. 辽东丘陵
 - B. 黄土高原
 - C. 华北平原
 - D. 浙闽丘陵
- 循环农业对建设美丽乡村的主要作用是 ()
 - ①提高经济效益
 - ②加快城镇发展
 - ③提供清洁能源
 - ④促进民居集中
 - A. ①②
 - B. ①③
 - C. ②③
 - D. ②④

万里茶道是明末清初到20世纪初亚欧大陆上一条重要的国际商道,以运送干茶砖为主。万

里茶道从中国福建崇安起,穿过蒙古国境内到达恰克图,茶道在俄罗斯境内继续延伸。右图示意万里茶道路线,读图完成 15—16 题。



15. 万里茶道路线经过的气候类型包括 ()
 ①亚热带季风气候 ②地中海气候 ③温带季风气候 ④温带大陆性气候
 A. ①②③ B. ②③④
 C. ①③④ D. ①②④
16. 从崇安到襄阳,商队运输途中最有可能遇到 ()
 A. 沙尘暴 B. 洪水 C. 暴风雪 D. 酷寒

2020 年 6 月 8 日的世界海洋日主题为“为可持续海洋创新”。旨在提醒人们海洋和海洋资源对于日常生活的重要性以及提高公众的海洋保护意识。据此完成 17—18 题。

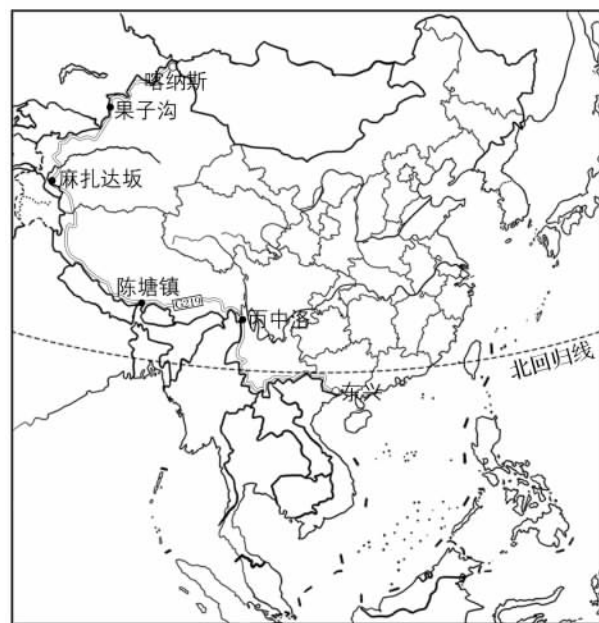
17. 我国每年在南海、东海、黄海、渤海实行休渔制度,其目的是 ()
 A. 增加渔民的假期 B. 保护鱼类资源
 C. 增加渔民的收入 D. 减少水污染
18. 有利于“海盐”资源开发的自然条件有 ()
 ①海滩广阔 ②光照充足 ③多阴雨天气 ④蒸发强
 A. ①②③ B. ①②④ C. ①③④ D. ②③④
19. 锂是新能源汽车中锂电池的主要原料,被称为 21 世纪的能源金属。锂矿是 ()
 A. 可再生的森林资源 B. 可再生的矿产资源
 C. 非可再生的矿产资源 D. 非可再生的生物资源
20. 建设节水型城市的主要途径有 ()
 ①加快南水北调工程建设 ②工业生产过程中采取废水回收技术 ③在山区修建大型蓄水工程 ④对城市居民生活用水实行阶梯水价 ⑤对市民进行节水教育,使市民养成节约用水的习惯
 A. ①②⑤ B. ①③⑤ C. ②④⑤ D. ③④⑤

二、综合题(共 20 分)

21. (9 分) 阅读图文资料,完成下列各题。

材料一 G219 是我国目前最长的国道,南起东兴,北到喀纳斯市,在我国西部边境蜿蜒,堪称地球上最雄壮的 1 万千米。这是一条通天之路、万水之路、生灵之路,更是边防之路。

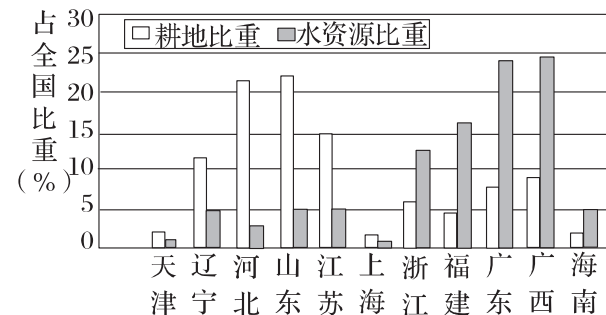
材料二 右图为 G219 路线图。



- (1) G219 从南到北沿途依次经过的省级行政区域有_____、云南省、_____和_____。
- (2) 东兴市位于我国大陆海岸线最西南端,隶属_____ (省级行政区域简称); 相邻的国家是_____; 濒临的海湾是_____。
- (3) 喀纳斯市是一个景色秀丽、民族风情浓郁的旅游胜地。这里邻近的国家有_____、_____、_____。

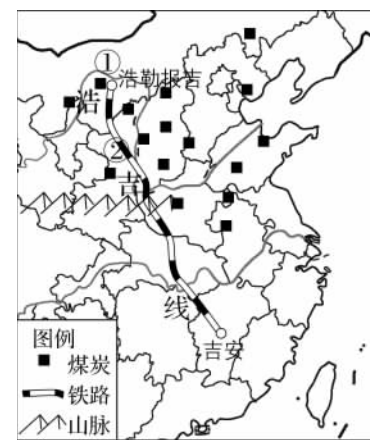
- (4) 关于 G219 沿线的叙述,正确的是(单项选择) ()
 A. 都位于北回归线以南地区 B. 途经地区均为少数民族自治区
 C. 经过地区皆为人口稠密区 D. 跨越了我国地势的三级阶梯
- (5) G219 经过我国多个少数民族聚居区,沿途常见的少数民族有(多项选择,选出两个正确选项) ()
 A. 藏族 B. 彝族 C. 蒙古族 D. 朝鲜族

22. (4 分) 下图为我国部分沿海省级行政区的耕地、水资源对比图。读图,完成下列各题。



- (1) 图中沿海省级行政区域占我国耕地比重最大的是_____。
- (2) 图中沿海省级行政区域占我国水资源比重最大的是_____。
- (3) 读图可知,上海以北的省级行政区域地多_____少,以南的则相反;所以我国沿海省级行政区域水土资源匹配不合理。
- (4) 针对我国水土资源的分布特征,我们应采取的措施有(单项选择) ()
 A. 北煤南运 B. 北方大力发展水稻种植业
 C. 大规模的人口迁移 D. 南水北调

23. (7 分) 2019 年 9 月 28 日,中国铁路版图又增一条能源运输大通道,我国最长的重载铁路浩吉铁路正式开通运营。下图示意浩吉铁路分布,读图,完成下列各题。



- (1) 煤炭是中国的第一大能源,主要集中分布在 ①_____ (省级行政区全称)、②_____ (简称)、山西省三省区。归纳图示区域煤炭资源空间分布的特点:_____。
- (2) 在陆上长距离运输煤炭,适宜的运输方式是_____ 运输,该运输方式具有_____ 的优点。
- (3) 浩吉铁路沿线地形复杂多样,施工难度大,支持其建设的主要条件是_____,其开通运营对中部地区的意义是_____。

参考答案

2023 年河北省张家口市宣化区八年级(上)期末地理试卷

1	2	3	4	5	6	7	8	9	10
D	A	B	C	D	A	D	A	A	C
11	12	13	14	15	16	17	18	19	20
B	B	D	B	C	B	B	B	C	C

21. (1)广西壮族自治区 西藏自治区 新疆维吾尔自治区 (2)桂 越南 北部湾 (3)哈萨克斯坦 俄罗斯 蒙古 (4)D (5)AB
22. (1)山东省 (2)广西壮族自治区 (3)水 (4)D
23. (1)内蒙古自治区 陕或秦 主要分布在本区北部(或北多南少,南北分布不均) (2)铁路 速度较快;运载量较大;运价较低 (3)技术力量(或资金) 增加能源供给;促进经济发展