

2023年河北省承德市宽城满族自治县八年级(上)期初

(总分60分 考试时间45分钟)

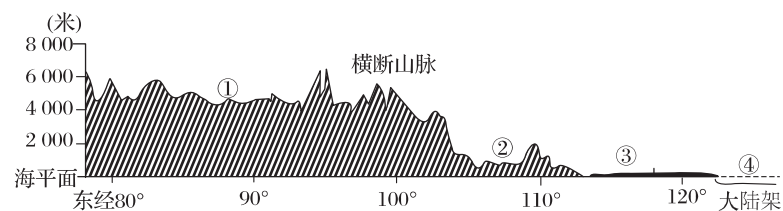
一、单项选择题(每小题2分,共40分)

我国既是一个陆地大国,也是一个海洋大国。读中国及周边地区略图,完成1—5题。



- 关于我国地理位置的说法,正确的是 ()
 - 我国西靠亚欧大陆,东临大西洋,是一个海陆兼备的国家
 - 我国所跨纬度较广,地跨寒、温、热三带
 - 我国既位于北半球,又位于东半球
 - 我国自北而南的边缘海有渤海、东海、黄海和南海
- 我国陆地面积约960万平方千米,仅次于 ()
 - 俄罗斯和美国
 - 加拿大和巴西
 - 加拿大和美国
 - 俄罗斯和加拿大
- 图中我国的邻国①和②分别是 ()
 - 韩国 印度
 - 朝鲜 缅甸
 - 日本 印度
 - 韩国 缅甸
- 我国幅员辽阔,“头上顶到漠河北,嘴喝两江汇合水,脚踩曾母暗沙岛,帕米尔上摆摆尾”。以下说法正确的是 ()
 - 漠河与海南岛气候差异源于两地经度差异大
 - “两江”指黑龙江和松花江
 - 我国领土最西端地处新疆维吾尔自治区内
 - 曾母暗沙位于我国东海境内
- 图中③省级行政区是我国两条大河的发源地,该省区是 ()
 - 西藏
 - 四川
 - 云南
 - 青海
- 我国少数民族中人口最多的是 ()
 - 回族
 - 维吾尔族
 - 壮族
 - 蒙古族

读我国沿32°N地形剖面示意图,完成7—9题。

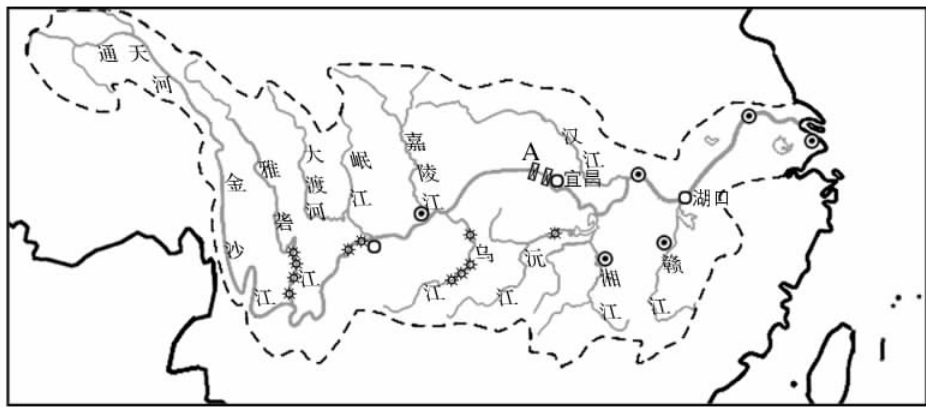


- 该图反映出我国地势总的特征是 ()
 - 中高周低,呈阶梯状分布
 - 东高西低,呈阶梯状分布
 - 北高南低,呈阶梯状分布
 - 西高东低,呈阶梯状分布
- 图中序号与地理事物名称搭配正确的是 ()
 - ①—云贵高原
 - ②—四川盆地
 - ③—华北平原
 - ④—黄海
- 区域②和③之间的山脉是 ()
 - 天山山脉
 - 秦岭
 - 巫山
 - 太行山脉
- 秦岭—淮河一线大致同哪些界线一致 ()
 - ①1月0℃等温线 ②400毫米年等降水量线 ③800毫米年等降水量线 ④热带与亚热带的分界线 ⑤季风区与非季风区的分界线 ⑥湿润区与半湿润区的分界线
 - ①②③
 - ②④⑥
 - ①③⑥
 - ①④⑤
- 世界上绝大多数农作物和动植物都能在我国找到适合生长的地区,主要是因为 ()
 - 季风区广大
 - 气候复杂多样
 - 夏季普遍高温
 - 雨热同期
- 我国大多数河流最后注入的大洋是 ()
 - 太平洋
 - 北冰洋
 - 大西洋
 - 印度洋
- 黄河的泥沙绝大部分来自 ()
 - 源头
 - 上游
 - 下游
 - 中游
- 下列属于非可再生资源的是 ()
 - 耕地
 - 阳光
 - 河水
 - 石油
- 关于我国土地资源的叙述,正确的是 ()
 - 耕地比重小
 - 荒地多,后备土地资源多
 - 难以利用的土地少
 - 草场面积在增加,且草质优良
- 我国山区主要的土地利用类型是 ()
 - 耕地
 - 林地
 - 草地
 - 建筑用地
- 小明从乌鲁木齐到北京开会,第二天必须赶到,应选择哪种交通工具 ()
 - 火车
 - 汽车
 - 轮船
 - 飞机

18. 发展和建立新兴高新技术产业的最重要条件是 ()
- A. 自然资源丰富 B. 科技力量雄厚
- C. 劳动力资源充足 D. 地理位置优越
19. 全国最大的工业城市是 ()
- A. 北京 B. 上海 C. 广州 D. 天津
20. 由地势原因造成的自然灾害有 ()
- A. 洪涝 B. 泥石流 C. 寒潮 D. 台风

二、综合题(每空1分,共20分)

21. 下图为长江流域略图,宜昌与湖口分别是长江上中下游的划分地点。读图,回答下列问题。



- (1) 长江全长 6 300 千米,是我国_____河,受地势影响,自西向东,注入_____海。
- (2) 长江水能资源丰富,被称为_____,集中分布在_____(上、中、下)游。
- (3) 我国为了更好地开发长江上的水能,修建了众多水电站,其中 A _____是世界规模最大的水电站。
22. 读“京津冀地区和长江三角洲地区示意图”,回答下列问题。

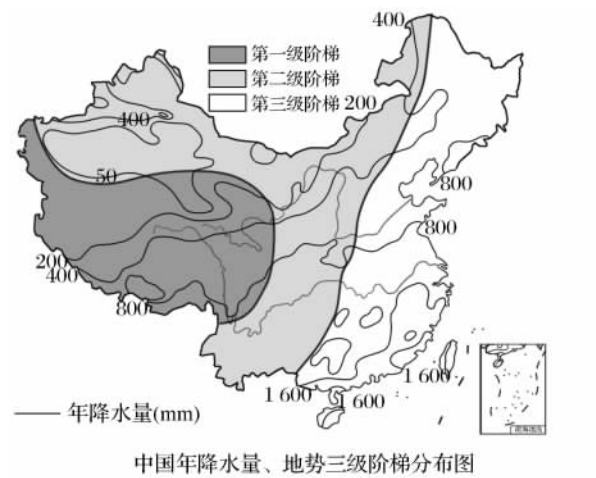
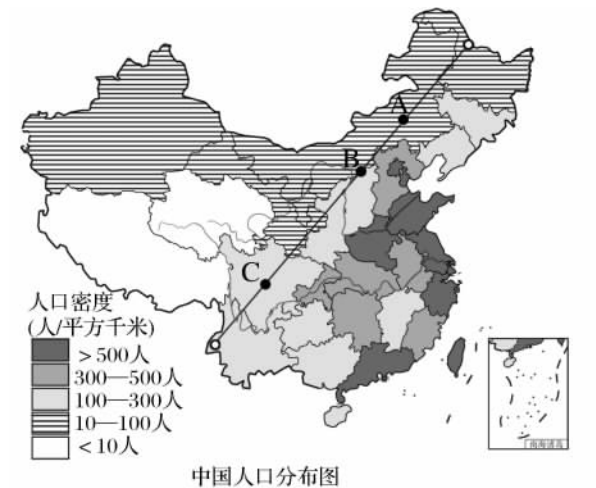


- (1) 北京发展高新技术产业的优势是 ()
- A. 高等院校和科研单位多 B. 气候宜人,环境优美
- C. 资源丰富 D. 临海,交通便利
- (2) 两地区的工业基地分别是_____、_____。
- (3) 连接两地区的铁路干线名称是_____。图中两城市,既是河港又是海港的是_____。

- (4) 两地区的重要工业基地发展的共同优势条件是 ()
- ①两地都具有沿海、沿铁路的便利交通 ②两地的煤炭资源都十分丰富 ③两地的钢铁工业都靠近原料产地
- ④两地城市、人口密集,消费市场大 ⑤两地均位于我国农业发达地区
- A. ①②③ B. ②③④ C. ③④⑤ D. ①④⑤

(5) 把 600 吨钢材用火车从上海运往昆明,经过的铁路线是_____。

23. 《中国国家地理》杂志推出的“慢步中国”专辑中,有一条慢步路线是“走胡线”(即“胡焕庸线”,指黑河—腾冲两地的连线),漫步在这条线上可以体验到我国多样的自然环境和人文环境。读下图,回答下列问题。



- (1) 图中直线为胡焕庸线,它的两端分别位于_____省的黑河市和云南省的_____县,该线以东以南地区人口_____(稠密/稀疏),地形类型以_____,丘陵、盆地等为主。
- (2) A 点所在省级行政区的主要少数民族是_____族。
- (3) B 点位于我国_____毫米年等降水量线上。
- (4) C 点位于_____盆地,该盆地位于我国地势第_____级阶梯。

参考答案

2023年河北省承德市宽城满族自治县八年级(上)期初

1	2	3	4	5	6	7	8	9	10
C	D	B	C	D	C	D	B	C	C
11	12	13	14	15	16	17	18	19	20
B	A	D	D	A	B	D	B	B	B

21. (1)第一大 东 (2)“水能宝库” 上 (3)三峡水利枢纽

22. (1)A (2)京津唐工业基地 长江三角洲工业基地 (3)京沪线 上海 (4)D (5)沪昆线

23. (1)黑龙江 腾冲 稠密 平原 (2)蒙古 (3)400 (4)四川 二