

2023 年河北省石家庄市第二十三中八年级(上)期末

(总分 100 分 考试时间 45 分钟)

一、单项选择题(每小题 2 分,共 80 分)

结合右图,回答 1—4 题。

1. 我们伟大的祖国,疆域辽阔,以下有关我国疆域的叙述错误的是 ()

- A. 位于亚洲的东部、太平洋的西岸
- B. 是一个海陆兼备的国家
- C. 陆地领土小部分位于北温带,大部分位于热带
- D. 位于东半球、北半球



2. 我国领土最南端在 ()

- A. 漠河以北的黑龙江主航道的中心线上
- B. 南沙群岛中的曾母暗沙
- C. 新疆的帕米尔高原上
- D. 黑龙江与乌苏里江主航道中心线的汇合处

3. 我国南北跨纬度约为 ()

- A. 102°
- B. 62°
- C. 50°
- D. 208°

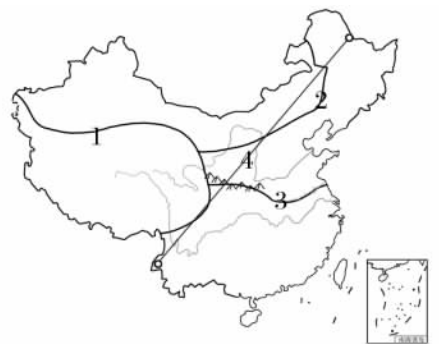
4. 当帕米尔高原还是满天星斗的黑夜时,乌苏里江面已洒满朝阳,形成这种差异的主要原因是 ()

- A. 南北跨纬度广
- B. 东西距离长、跨经度大
- C. 离海洋远近不同
- D. 地形复杂

根据 2020 年第七次全国人口普查得知,我国人口总数为 14.12 亿(不包括港澳台地区),约占世界人口总数的 1/5,是世界上人口最多的国家。关于我国人口,结合图回答 5—7 题。

5. 我国始终坚持计划生育基本国策的根本原因是 ()

- A. 我国人口东多西少
- B. 我国人口基数大
- C. 我国人口已出现负增长
- D. 我国人口基数小



6. 我国近几年不断调整人口政策的主要目的是 ()

- ①迅速提高人口素质
 - ②解决人口增长过快带来的问题
 - ③促进人口与社会经济、资源环境的协调可持续发展
 - ④缓解人口老龄化带来的问题
- A. ①③
 - B. ①④
 - C. ②④
 - D. ③④

7. 图中代表我国人口地理分界线的是 ()

- A. 1 线
- B. 2 线
- C. 3 线
- D. 4 线

在中华民族大家庭中,共同生活着 56 个民族,其中汉族人口最多,约占总人口的 91%,其他 55 个民族人口较少,称为少数民族。回答 8—10 题。

8. 在我国少数民族中,人口最多的是 ()

- A. 回族
- B. 壮族
- C. 维吾尔族
- D. 蒙古族

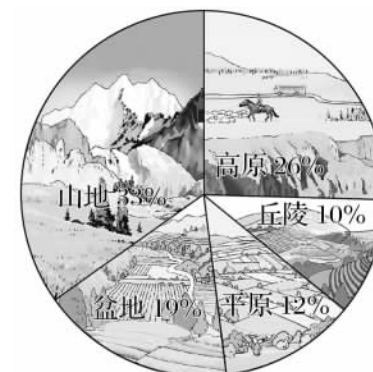
9. 某电视台播出的“民族大家庭”的节目,有“是真是假”的竞猜游戏,请根据四个“真假”少数民族同胞的叙述,判断谁是正确的 ()

- A. 壮族同胞说:“我们每年三月三过雪顿节”
- B. 苗族同胞说:“我们每年夏季过泼水节”
- C. 蒙古族同胞说:“我们每年夏天过那达慕节”
- D. 傣族同胞说:“秋天丰收节是我们的传统节日”

10. 关于我国民族分布的叙述,不正确的是 ()

- A. 汉族的分布遍及全国
- B. 少数民族主要分布在东北、西北、西南地区
- C. 各民族分布具有“大杂居、小聚居、交错居住”的特点
- D. 少数民族和汉族的分布区有较明显的分界线

读“我国各类地形面积比例图”,回答 11—12 题。



我国各类地形面积比例

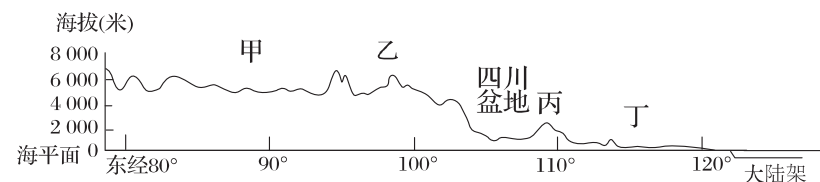
11. 读“我国各类地形面积比例图”可知,我国的地形构成特点是 ()

- A. 地形复杂多样,盆地、丘陵面积广大
- B. 地形类型单一,平原面积广大
- C. 地形复杂多样,山区面积广大
- D. 地形类型单一,高原面积广大

12. 关于我国地形构成对我国地理环境和人类活动的影响,说法正确的有 ()

- ①地形复杂多样,有利于我国发展多种农业经济
 - ②山区面积广大,在发展林业、牧业、旅游业方面具有优势
 - ③平原、盆地面积大,有利于粮食作物的种植
 - ④山区面积广大,便于各地经济、贸易和文化往来
- A. ①③
 - B. ①②
 - C. ①④
 - D. ③④

读“我国沿北纬 32°线地形剖面示意图”,完成 13—18 题。



13. 图示反映出我国地势总特征是 ()

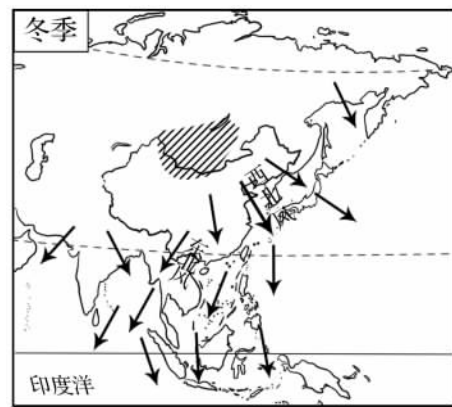
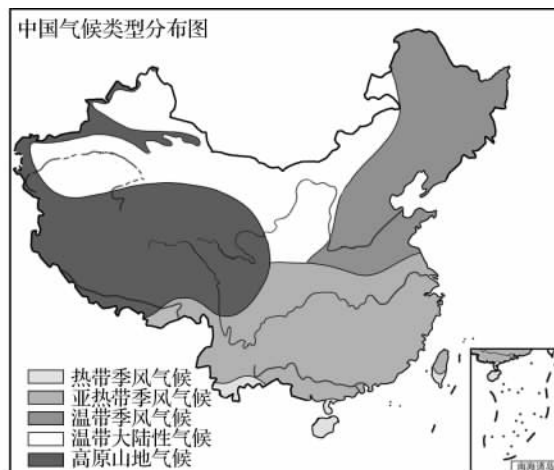
- A. 西高东低,呈阶梯状分布
- B. 东高西低,呈阶梯状分布
- C. 西高东低,呈斜坡状分布
- D. 地势中部高,四周低

14. 图示中甲和丁地形区分别是 ()

- A. 黄土高原 华北平原
- B. 青藏高原 华北平原
- C. 青藏高原 长江中下游平原
- D. 内蒙古高原 东北平原

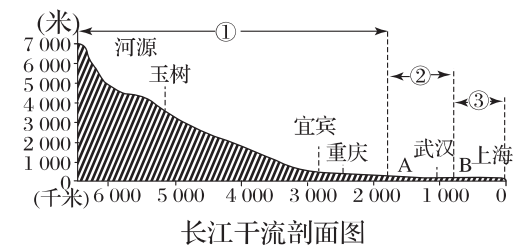
15. 我国地势第二、三级阶梯分界线是图中的 ()
 A. 甲 B. 乙 C. 丙 D. 丁
16. 受地势影响,我国大部分河流注入 ()
 A. 北冰洋 B. 太平洋 C. 大西洋 D. 印度洋
17. 该图所示的我国地势对我国气候的影响是 ()
 A. 夏季高温 B. 冬季少雨
 C. 东部雨量较少 D. 有利于太平洋暖湿气流深入内陆
18. 我国东西海拔差异大,河流蕴藏着丰富的水能资源,我国大型水电站大多分布在 ()
 A. 沿海地区 B. 地势阶梯交界处
 C. 板块交界处 D. 高原内部

我国幅员辽阔,南北跨纬度广,冬季南北存在巨大的气温差异,沿海与内陆也存在较大的降水差异,形成了我国现在的气候类型分布状况及气候特征。读下图,回答 19—26 题。



19. 我国气候的两大特征是 ()
 ①气候复杂多样 ②海洋性气候特征突出 ③季风气候显著 ④高原山地气候面积最小
 A. ①③ B. ①④ C. ②④ D. ③④
20. 下列关于秦岭—淮河一线的叙述,正确的有 ()
 ①我国 1 月 0℃ 等温线大致经过 ②我国 400 毫米年等降水量线大致经过 ③暖温带与亚热带分界线 ④湿润地区与半湿润地区的分界线
 A. ①②③ B. ①②④ C. ①③④ D. ②③④
21. 我国年降水量分布的总趋势是 ()
 A. 从东南沿海向西北内陆递减 B. 从西北内陆向东南沿海递减
 C. 从西南向东北递减 D. 从北向南递减

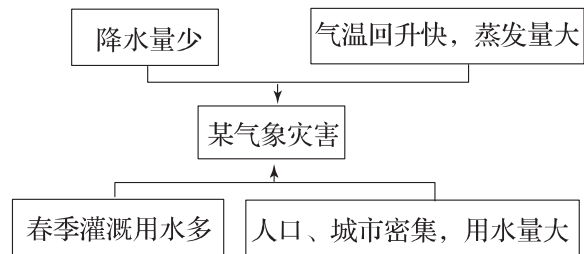
22. 不同温度带内,人们的生产与生活有一定的差异。下列选项中,符合暖温带特点的是 ()
 A. 适宜生长香蕉、苹果等果树 B. 农作物熟制为一年两熟或两年三熟
 C. 民居一般高大宽敞,便于通风散热 D. 居民一般以米饭为主食
23. 世界上大多数农作物都能在我国找到适合生长的地区,主要是因为我国 ()
 A. 季风气候显著 B. 夏季普遍高温
 C. 雨热同期 D. 气候复杂多样
24. 我国石家庄市所处的温度带和干湿地区分别为 ()
 A. 亚热带、湿润地区 B. 亚热带、半湿润地区
 C. 暖温带、半湿润地区 D. 暖温带、湿润地区
25. 图示第三幅图标明了我国冬季风的路径,其来自蒙古、西伯利亚等内陆地区,其性质为 ()
 A. 炎热干燥 B. 高温高湿 C. 寒冷干燥 D. 温和湿润
26. 冬季风活动强烈有可能给我国带来的自然灾害是 ()
 A. 台风 B. 寒潮 C. 旱灾 D. 洪水灾害
- 我国是世界上河流湖泊众多的国家之一,有许多源远流长的大江大河,结合“长江干流剖面图”,回答 27—31 题。



27. 我国最大的内流河是 ()
 A. 塔里木河 B. 弱水 C. 辽河 D. 松花江
28. 我国的内流河和外流河,汛期都出现在夏季,原因是 ()
 A. 都受夏季风的影响
 B. 都受夏季气温的影响
 C. 都受地形的影响
 D. 外流河受夏季风降水影响,内流河受夏季气温影响
29. 与秦岭—淮河以南河流相比,此线以北地区河流最显著的特点是 ()
 A. 水量更丰富 B. 含沙量更小
 C. 汛期更长 D. 有结冰期
30. 长江水能资源丰富,被称为“水能宝库”,从图中可以推断出长江的水能资源主要集中在 _____ 河段 ()
 A. ①上游河段 B. ②中游河段
 C. ③下游河段 D. ①②上中游河段
31. 自古以来,长江就是我国东西运输的大动脉,干支流通航里程 700 多千米,宜宾以下四季通航,被称为 ()
 A. “黄金水道” B. “水能宝库” C. “第一大河” D. “中华水塔”

我国地域辽阔,自然环境复杂多样,自然灾害种类多,分布广,请回答 32—33 题。

32. 下图为我国某地某气象灾害成因示意图,则此气象灾害为 ()

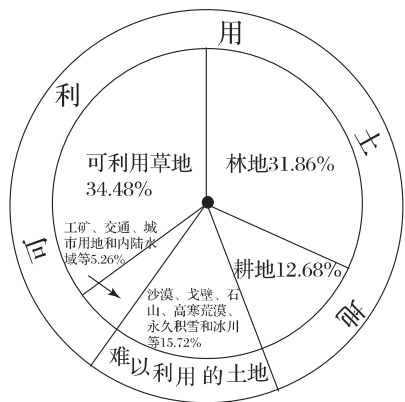


A. 寒潮 B. 沙尘暴 C. 春旱 D. 洪涝

33. 该气象灾害最易发生的地区是 ()

A. 四川盆地 B. 华北平原
C. 长江中下游平原 D. 东北平原

近期国际局势动荡,欧洲能源危机重现,“珍惜地球资源,转变发展方式”又一次成为全世界的焦点。请结合图示资料,完成 34—36 题。



34. 下列自然资源属于非可再生资源的是 ()

A. 太阳能 B. 水能 C. 石油 D. 森林资源

35. 下列关于我国土地资源构成的叙述,正确的是 ()

A. 耕地、草地比重大 B. 难以利用的土地比重小
C. 后备土地资源充足 D. 土地资源类型多样

36. 我国解决水资源空间分布不均的最好办法是 ()

A. 节约用水 B. 跨流域调水
C. 兴修水库 D. 防止水污染

近些年我国经济发展突飞猛进,2010 年超越日本成为世界第二大经济体,联系“第四章 我国工农业经济发展”,回答 37—40 题。

37. 我国国民经济的基础产业是 ()

A. 工业 B. 农业 C. 商业 D. 交通运输业

38. 我国形成“东耕西牧”农业格局的主要影响因素是 ()

A. 南北气温差异 B. 南北干湿差异
C. 东西气温差异 D. 东西干湿差异

39. 横穿我国东西部,为我国最长的一条东西向铁路干线的是 ()

A. 滨洲—滨绥线 B. 京包—包兰线
C. 陇海—兰新线 D. 京哈—京沪线

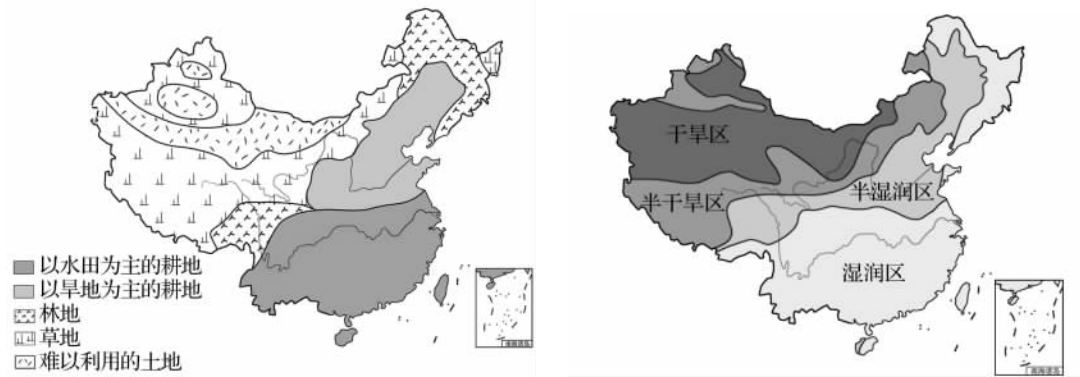
40. 建立和发展高新技术产业最重要的先决条件是 ()

A. 自然资源 B. 劳动力资源 C. 科技力量 D. 地理位置

二、综合题(每小题 10 分,共 20 分)

41. 根据图文资料,完成下列问题。

我国各地气候条件不同,干湿状况差异很大,致使土地利用类型多种多样。左图是我国土地利用类型图,右图是我国干湿地区划分图。



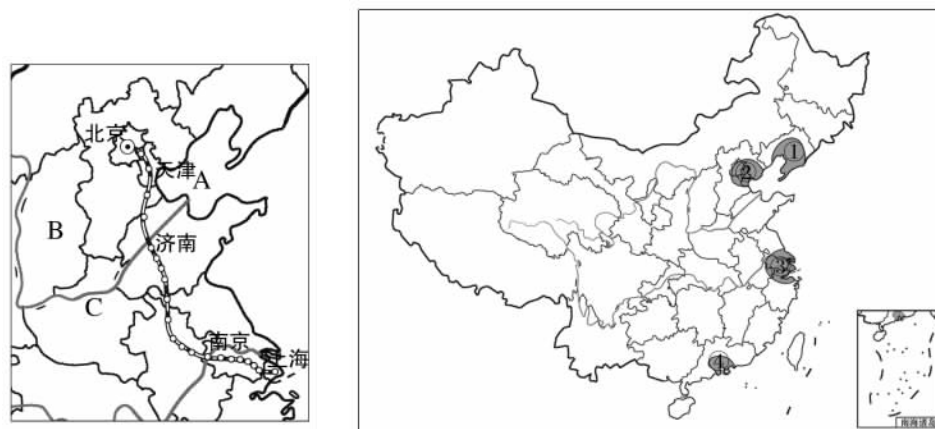
(1) 我国南方绝大部分地区年降水量在_____毫米以上,气候湿润,从干湿状况上划分,属于_____地区,耕地以_____为主,粮食作物以种植水稻为主。

(2) 华北平原从干湿状况上划分为_____地区,耕地以_____为主,粮食作物以小麦、玉米为主,还是我国棉花、花生的主要种植区。

(3) 半湿润区与半干旱区的分界线大体上与_____毫米年等降水量线一致,该线西北部的可利用土地资源以_____ (土地利用类型) 为主,农业生产以_____业为主。

(4) 我国的天然林主要分布在我国_____林区和西南林区,人工林主要分布在_____林区,几十年来,我国人工林造林面积大幅度增加,造林速度领先于世界,为改善世界环境做出了突出贡献。

42. 根据图文资料,回答以下问题。



(1) 图中铁路线大致是沿_____线运行,其连接了我国两大工业基地,即:②_____工业基地和③_____工业基地,对区域间经济合作与往来起着至关重要的作用,因此交通运输业也被称为经济发展的“_____”。

(2) 图中与河北省交界的 B 省份为_____省,_____山脉位于两省交界处,此山脉是华北平原与黄土高原的分界线。

(3) 图中河流 C 为黄河,发源于青藏高原,蜿蜒东流注入 A _____海,图中大部分属于黄河下游部分,黄河下游部分河段形成了“_____”现象,在汛期对两岸平原存在着洪水威胁。

(4) 由图中我国四大工业基地的分布看,我国工业分布具有沿河、_____分布的特点,形成了我国工业中心分布东部较_____,西部内陆分布较少、相对落后的格局。

姓名:

考号:

班级:

学校:

参考答案

2023年河北省石家庄市第二十三中八年级(上)期末

1	2	3	4	5	6	7	8	9	10	11	12	13	14	15
C	B	C	B	B	D	D	B	C	D	C	B	A	C	C
16	17	18	19	20	21	22	23	24	25	26	27	28	29	30
B	D	B	A	C	A	B	D	C	C	B	A	D	D	A
31	32	33	34	35	36	37	38	39	40					
A	C	B	C	D	B	B	D	C	C					

41. (1)800 湿润 水田 (2)半湿润 旱地 (3)400 草地 畜牧 (4)东北 东南

42. (1)京沪 京津唐 长江三角洲 先行官 (2)山西 太行 (3)渤 地上河 (4)沿海多